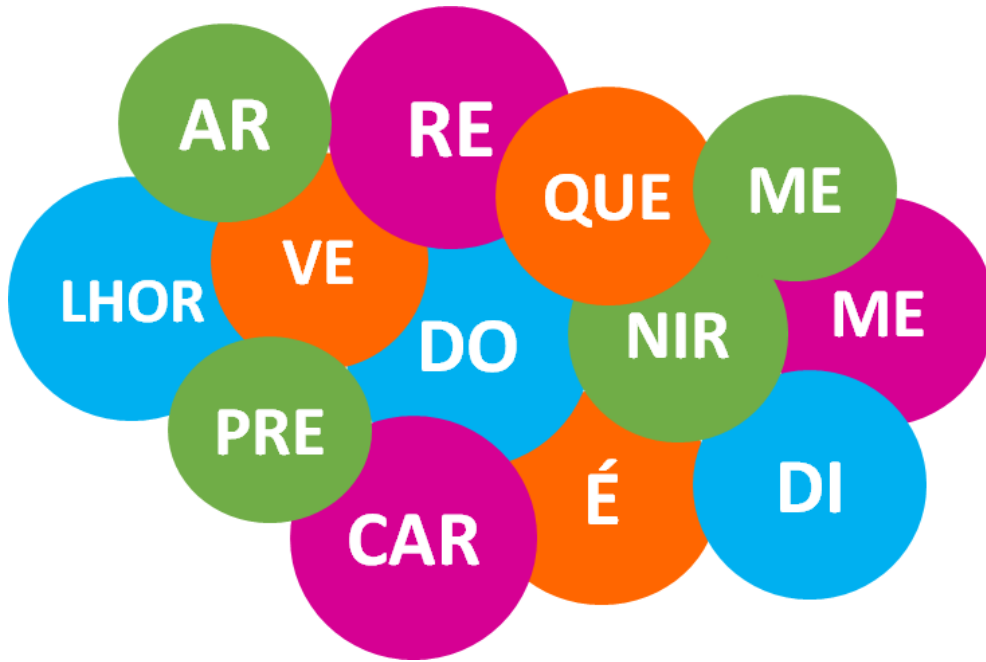

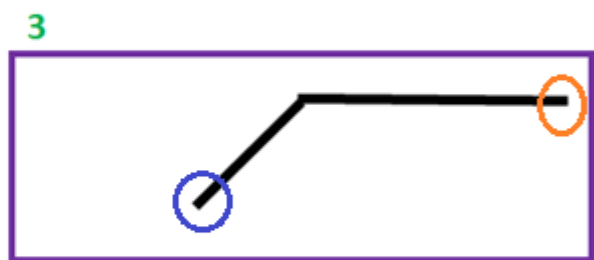
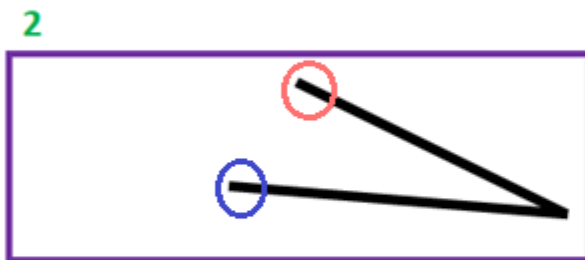

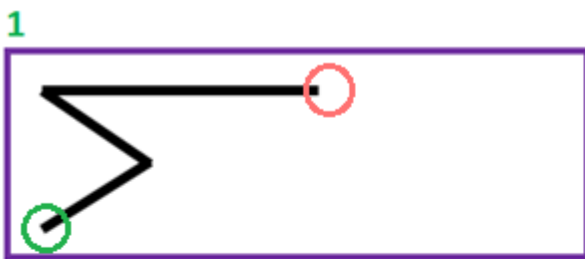


Exercício 1. Ordene adequadamente as fichas para conseguir montar um provérbio conhecido. Uma das fichas não será usada.



Exercício 2. Primeiro junte mentalmente as quatro figuras, seguindo a numeração e as cores indicadas. Que figura você irá obter? Desenhe-a no retângulo em branco.

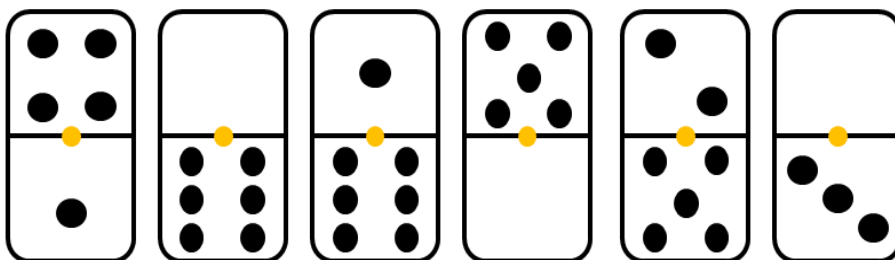




Exercício 3. Divida o retângulo abaixo em cinco partes, de forma que a soma dos números contidos em cada uma, seja igual a 15. As partes poderão ter formatos diferentes e nem sempre a mesma quantidade de números. Uma dessas partes já está destacada a modo de exemplo.

3	6	4	3	1
10	1	2	1	1
1	3	1	7	10
7	6	2	5	1

Exercício 4. Coloque as peças de dominó sobre as peças em branco, de modo que os pontos somem as quantidades que aparecem em ambas as margens.



13	12	8	
			3
			14
			9
			7